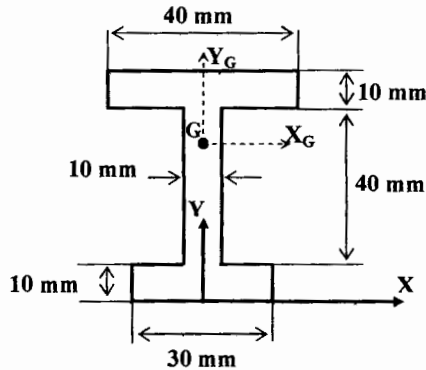


Exercice 1 (6 points)

Soit la surface montrée sur la figure ci-dessous.

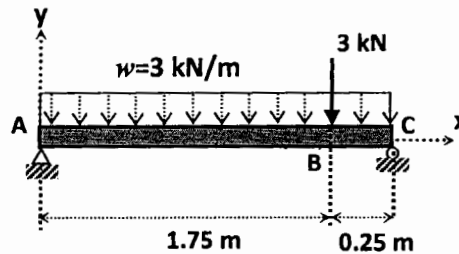
- 1) Déterminer les coordonnées du centroïde 'G' de cette surface dans le repère (X, Y).
- 2) Calculer le moment quadratique de cette surface par rapport à l'axe X_G passant par le centroïde de la surface G.



Exercice 2 (9 points)

Une poutre simplement supportée soumise à une charge répartie w de 3 kN/m et une force concentrée de 3 kN tel que montré sur la figure ci-dessous.

- 1) Tracer les diagrammes du moment fléchissant et de l'effort tranchant de cette poutre en mentionnant les points critiques sur ces diagrammes.

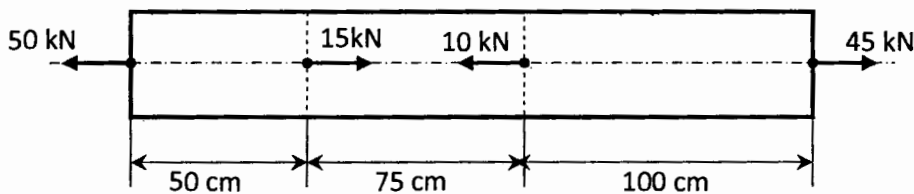


Exercice 3 (5 points)

La membrure de matériau homogène montrée sur la figure ci-contre est soumise à un ensemble de forces normales à sa surface tel que montré sur la figure ci-dessous.

Son module de Young $E = 2,11 \times 10^6 \text{ kg/cm}^2$ et sa section est égale à 5 cm^2 .

- 1) Déterminer l'allongement total δ de la membrure.



Note : Le module de Young 'E' en $\text{N/m}^2 = (2,11 \times 10^6 \times 10) / 10^{-4} = 2,11 \times 10^{11} \text{ N/m}^2$

Correction de l'examen de la Hvacpage
de la RDM - 2015 (ST2 GM + AERO)

Exercice 1 (6)

Déterminer la position du centroïde:

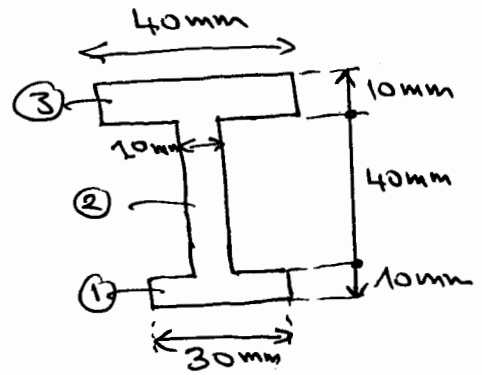
$$y_G = \frac{\sum A_i \bar{y}_i}{\sum A_i} = \frac{A_1 y_1 + A_2 y_2 + A_3 y_3}{A_1 + A_2 + A_3}$$

$$A_1 = 300 \text{ mm}^2 \quad A_2 = 400 \text{ mm}^2 \quad A_3 = 400 \text{ mm}^2$$

$$y_{G1} = 5 \text{ mm} \quad y_{G2} = 30 \text{ mm} \quad y_{G3} = 55 \text{ mm}$$

$$\Rightarrow y_G = \frac{300 \times 5 + 400 \times 30 + 400 \times 55}{300 + 400 + 400} = 32,27 \text{ mm} = \frac{35500}{1100}$$

$$x_G = 0 \text{ pour la symétrie par rapport à l'axe } Y.$$



Moment quadratique I_{xG}

$$I_{xG} = \sum_{i=1}^n I_{xGi} + d_i^2 A_i$$

$$I_{xG1} = \frac{bh^3}{12} = \frac{30(10)^3}{12} = 2500 \text{ mm}^4$$

$$I_{xG2} = \frac{bh^3}{12} = \frac{10(40)^3}{12} = 53333,33 \text{ mm}^4$$

$$I_{xG3} = \frac{bh^3}{12} = \frac{40(10)^3}{12} = 3333,33 \text{ mm}^4$$

$$d_1 = 32,27 - 5 = 27,27 \text{ mm}$$

$$d_2 = 32,27 - 30 = 2,27 \text{ mm}$$

$$d_3 = 55 - 32,27 = 22,73 \text{ mm}$$

$$I_{xG} = [2500 + 27,27^2 (300)] + [53333,33 + 2,27^2 (400)] + [3333,33 + 22,73^2 (400)]$$

$$= 225595,87 + 55394,49 + 209994,49$$

$$= 490984,85 \text{ mm}^4$$

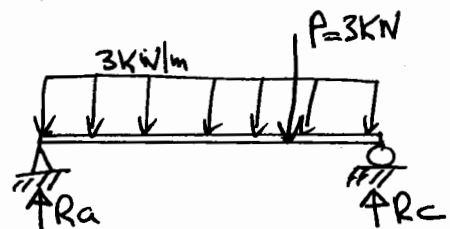
Exercice 2 (9)

2) Diagrammes $M(x)$ et $V(x)$

Calcul des réactions

$$\sum F_v = 0 \quad R_a + R_c - 3 - 3 \times 2 = 0 \Rightarrow R_a + R_c = 9 \text{ KN}$$

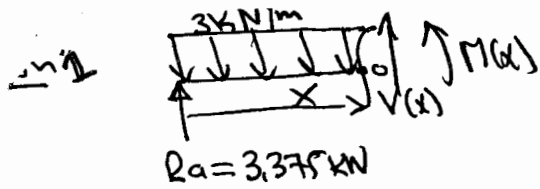
$$\sum M/a = 0 \quad (3 \times 2) \left(\frac{2}{2}\right) + 1 - 3 \times 1,75 - R_c \times 2 = 0$$



$$\Rightarrow R_c = 5,625 \text{ KN}$$

$$\Rightarrow R_a = 3,375 \text{ KN}$$

Sections



$$0 \leq x \leq 1,75 \text{ m}$$

$$R_a = 3,375 \text{ kN}$$

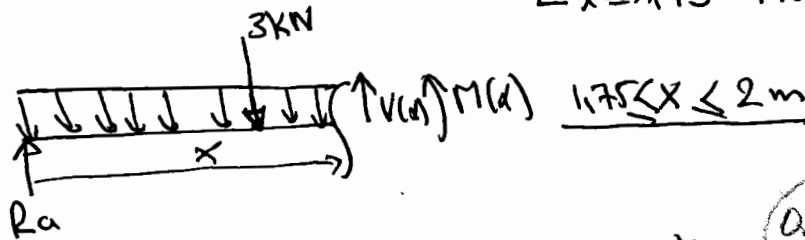
$$\sum F_y = 0 \Rightarrow V(x) + R_a - 3 \cdot x = 0 \Rightarrow V(x) = 3x - R_a = 3x - 3,375$$

$[x=0 \quad V(x) = -3,375 \text{ kN}] \quad [x=1,75 \text{ m} \quad V(x) = 1,875 \text{ kN}]$

$$\sum M_o = 0 \Rightarrow M(x) - R_a x + 3x \left(\frac{x}{2}\right) = 0 \Rightarrow M(x) = -\frac{3}{2} x^2 + 3,375 x$$

$$\begin{cases} x=0 & M(x) = 0 \\ x=1,75 & M(x) = 1,3125 \text{ kN}\cdot\text{m} \end{cases}$$

Section-2



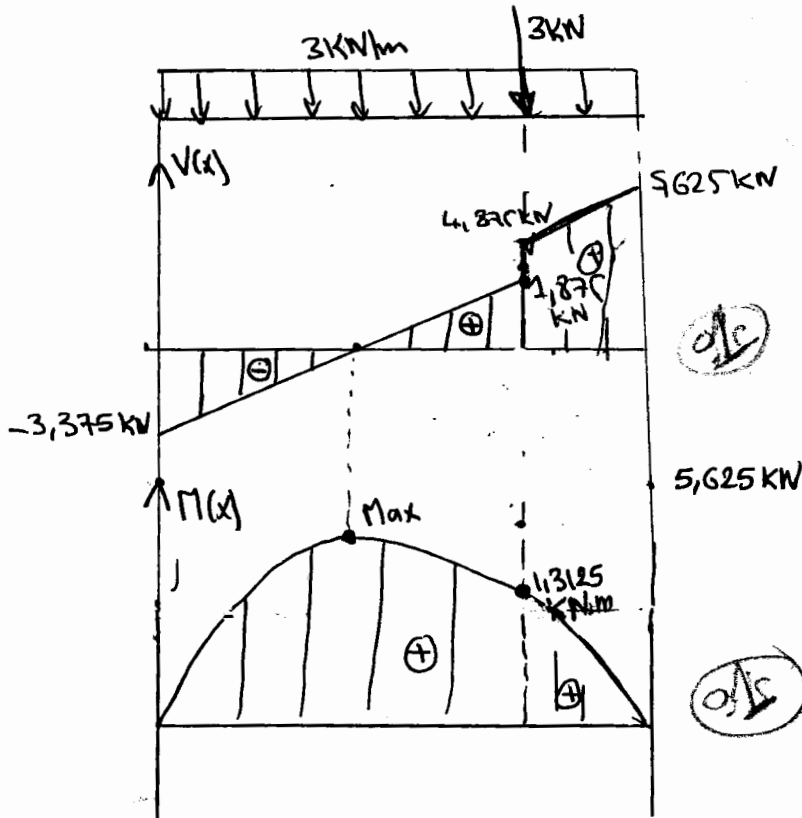
$$\sum F_y = 0 \Rightarrow V(x) + R_a - 3 - 3x = 0 \Rightarrow V(x) = 3x - 0,375$$

$$\sum M_o = 0 \Rightarrow M(x) - R_a x + 3(x-1,75) + \frac{3x^2}{2} = 0$$

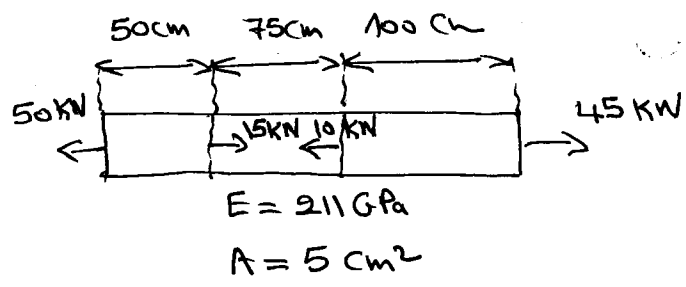
$$\begin{cases} x=1,75 \text{ m} & V(x) = +4,875 \text{ kN} \\ x=2 \text{ m} & V(x) = +5,625 \text{ kN} \end{cases}$$

$$\Rightarrow M(x) = -\frac{3}{2} x^2 + 0,375 x + 5,25$$

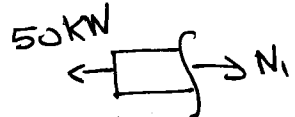
$$\begin{cases} x=1,75 \text{ m} & M(x) = 1,3125 \text{ kN}\cdot\text{m} \\ x=2 \text{ m} & M(x) = 0 \text{ kN}\cdot\text{m} \end{cases}$$



ex 3



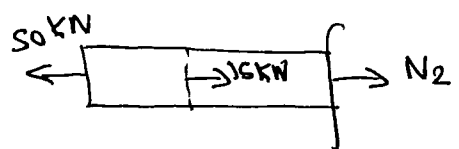
Section 1



$$\sum F_H = 0 \Rightarrow N_1 = 50 \text{ kN (Traction)} \quad (0,5)$$

$$\delta_1 = \frac{N_1 L_1}{E_1 A_1} = \frac{50 \times 10^3 \times 50 \times 10^{-2}}{211 \times 10^9 \times 5 \times 10^{-4}} = 2,36 \times 10^{-4} \text{ m}$$

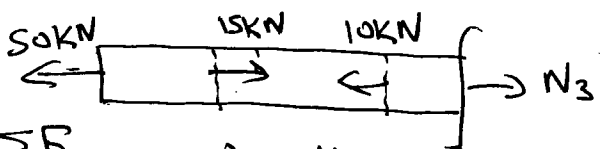
Section 2



$$\sum F_H = 0 \Rightarrow N_2 - 50 + 15 = 0 \Rightarrow N_2 = 35 \text{ kN} \quad (0,5)$$

$$\delta_2 = \frac{N_2 L_2}{E_2 A_2} = \frac{35 \times 10^3 \times 75 \times 10^{-2}}{211 \times 10^9 \times 5 \times 10^{-4}} = 2,48 \times 10^{-4} \text{ m} \quad (1)$$

Section 3



$$\sum F_H = 0 \Rightarrow N_3 - 50 + 15 - 10 = 0 \Rightarrow N_3 = 45 \text{ kN} \quad (0,5)$$

$$\Rightarrow \delta_3 = \frac{N_3 L_3}{E_3 A_3} = \frac{45 \times 10^3 \times 100 \times 10^{-2}}{211 \times 10^9 \times 5 \times 10^{-4}} = 4,26 \times 10^{-4} \text{ m} \quad (1)$$

$$\delta_T = \delta_1 + \delta_2 + \delta_3 = (2,36 + 2,48 + 4,26) \times 10^{-4} = \boxed{9,10 \times 10^{-4} \text{ m}}$$

(0,5)